



Redactare: Ramona Rossall, Daniel Mitran
Tehnoredactare: Carmen Rădulescu, Iuliana Ene
Pregătire de tipar: Marius Badea
Design copertă: Mirona Pintilie

Descrierea CIP a Bibliotecii Naționale a României

ZAHARIA, MARIA

**Caiet de vacanță : matematică : clasa a VII-a : suport teoretic,
exerciții și probleme aplicative / Maria Zaharia. - Pitești : Paralela 45, 2019**
ISBN 978-973-47-3019-3

51

Copyright © Editura Paralela 45, 2019

Prezenta lucrare folosește denumiri ce constituie mărci înregistrate,
iar conținutul este protejat de legislația privind dreptul de proprietate intelectuală.

Maria Zaharia

Caiet de vacanță
Matematică
Clasa a VII-a

Suport teoretic, exerciții
și probleme aplicative

Editura Paralela 45



Rădăcina pătrată a pătratului unui număr natural. Estimarea rădăcinii pătrate dintr-un număr rațional

1. a) Dacă x este un număr natural, întreg sau rațional, atunci x^2 este lui x și despre numărul x^2 se spune că este
b) Rădăcina pătrată a unui număr pozitiv a este numărul pozitiv notat, al cărui pătrat
2. a) Dacă a și p sunt două numere pozitive, atunci $\sqrt{a} = p$ dacă și numai dacă
b) Rădăcina pătrată a pătratului unui număr natural este
3. a) Operația prin care se află rădăcina pătrată a unui număr pozitiv se numește din acel număr.
b) Pentru a extrage rădăcina pătrată dintr-un pătrat perfect se descompune și se folosește proprietatea $n = p^2 \Leftrightarrow \sqrt{n} = \dots$.
4. a) Prin estimare se înțelege
b) A estima rădăcina pătrată a unui număr înseamnă
5. a) Pentru a estima, pentru a aproxima prin adaos sau prin lipsă la un anumit ordin de mărime rădăcina pătrată dintr-un număr pozitiv care nu este pătrat perfect, se folosește
b) A calcula rădăcina pătrată a numărului 2, care nu este, cu o eroare mai mică decât 0,00001, înseamnă a scrie $\sqrt{2} = 1,414213562\dots$ cu ajutorul unui și a scrie rezultatul luând în considerație doar zecimale, adică $\sqrt{2} = \dots$.
6. a) Dacă $n \in \{0, 1, 2, 7, 11, 12\}$, atunci $n^2 \in \{\dots\}$.
b) Dacă $n^2 \in \{9, 16, 25, 36, 64, 81, 100\}$, atunci $\sqrt{n^2} \in \{\dots\} = \dots$.
7. Se consideră mulțimea $M = \{8, 121, 72, 144, 49, 169\}$.
a) Elementele mulțimii M , care sunt pătrate perfecte, sunt
b) Rădăcinile pătrate ale numerelor naturale pătrate perfecte din mulțimea M sunt



- 8.** a) Ultima cifră a unui număr natural pătrat perfect poate fi:
 b) Dacă ultima cifră a unui număr natural este 2, 3, 7 sau 8, atunci numărul respectiv
- 9.** a) Dacă ultima cifră a unui număr este 4, atunci numărul respectiv poate
 sau
 b) Numerele 14, 24, 34, 44, 54 ș.a.m.d. au ultima cifră 4 și nu sunt
 c) Numerele 4, 64, 144, 324 ș.a.m.d. au ultima cifră 4 și sunt
 $4 = 2^2$; $64 = 8^2$; $144 = 12^2$; $324 = 18^2$.
- 10.** a) Dacă $\sqrt{1xy}$ este număr natural, atunci $\overline{1xy} \in$

 b) Dacă $\sqrt{3ab}$ este număr natural, atunci $a + b \in$

- 11.** Rădăcinile pătrate ale numerelor:
 a) $2^2 \cdot 3^4$; $2^6 \cdot 5^2$; $5^4 \cdot 7^2$; $2^4 \cdot 3^2 \cdot 5^2$ sunt
 b) 576; 1024; 1764; 15876 sunt
- 12.** a) Pătratele perfecte mai mici decât 51 sunt
 b) Pătratele perfecte cuprinse între 200 și 391 sunt
- 13.** a) Mulțimea $M = \{x \in \mathbb{N} \mid 3^2 \leq x < 6^2\}$ are elemente.
 b) Numărul pătratelor perfecte cuprinse între 2^2 și 7^2 este egal cu
- 14.** Efectuând următoarele calcule se obține:
 a) $\sqrt{13^2 - 5^2} =$
 b) $\sqrt{12^2 + 16^2} =$
 c) $\sqrt{2 \cdot 3^2 + 7 \cdot 3^2} =$
 d) $\sqrt{9 \cdot 5^2 - 8 \cdot 5^2} =$
- 15.** a) Pătratele perfecte de trei cifre sunt:

 b) Numerele de forma $5n + 2$, $5n + 3$, $5n + 7$ și $5n + 8$ nu pot fi pătrate perfecte deoarece
- 16.** Folosind un calculator scrieți cu două zecimale exacte numerele:
 a) $\sqrt{19} =$; b) $\sqrt{111} =$; c) $\sqrt{631} =$

1. a) Desenați un patrulater $ABCD$ convex.




Fig. 1.a

b) Desenați un patrulater $MNPQ$ concav.


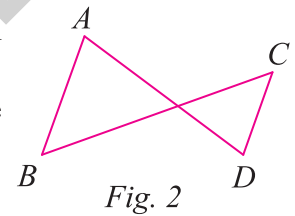


Fig. 1.b

2. Examinați cu atenție figura 2. Explicați de ce figura $ABCD$ nu este un patrulater.

Demonstrație: În figura alăturată $ABCD$ nu este patrulater, deoarece segmentele AD și BC



3. Desenați un patrulater convex $ABCD$ care să aibă:

- a) două laturi opuse congruente;
- b) două laturi opuse paralele și congruente;
- c) două unghiuri alăturate suplementare;
- d) două unghiuri alăturate congruente.




Fig. 3.a




Fig. 3.b

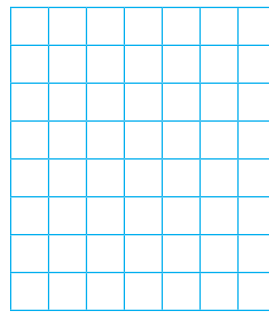


Fig. 3.c




Fig. 3.d

4. Fie patrulaterul convex $ABCD$ din figura alăturată. Calculați suma măsurilor unghiurilor patrulaterului.

Demonstrație: În $\triangle ABC$ suma măsurilor unghiurilor este de 180° , adică:

$$\sphericalangle CAB + \sphericalangle ABC + \sphericalangle BCA = \dots\dots\dots^\circ \quad (1).$$

În triunghiul ADC , adică

$$\dots\dots\dots = 180^\circ \quad (2).$$

Din (1) și (2) \Rightarrow

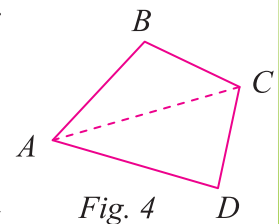


Fig. 4



5. a) Judecați și notați dacă se poate construi un patrulater convex, astfel încât suma măsurilor a trei unghiuri să fie 170° .

b) Un patrulater $ABCD$ are unghiurile A și C drepte și unghiul B ascuțit. Demonstrați că unghiul D este obtuz.

Demonstrație: a) Cum suma măsurilor unghiurilor unui patrulater convex este de 360° și suma măsurilor celor trei unghiuri este 170° , înseamnă că măsura ar fi $360^\circ - 170^\circ = \dots^\circ$, ceea ce, deoarece $0^\circ \leq x^\circ \leq 180^\circ$. Deci,

b) În figura alăturată: $\sphericalangle A + \sphericalangle B + \sphericalangle C + \sphericalangle D = 360^\circ$. Dar $\sphericalangle A + \sphericalangle C = 180^\circ \Rightarrow \sphericalangle B + \sphericalangle D = \dots = \dots^\circ \Rightarrow \sphericalangle D = \dots^\circ$. Cum $\sphericalangle B$ este unghi ascuțit $\Rightarrow \sphericalangle B < \dots^\circ \Rightarrow \sphericalangle D > \dots^\circ$, adică $\sphericalangle D$ este unghi obtuz.

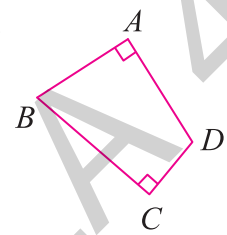


Fig. 5

6. Calculați măsurile unghiurilor unui patrulater convex, știind că ele sunt direct proporționale cu numerele 2, 3, 4 și 6.

Demonstrație: Fie patrulaterul $ABCD$. Avem: $\frac{\sphericalangle A}{2} = \frac{\sphericalangle B}{3} = \frac{\sphericalangle C}{4} = \frac{\sphericalangle D}{6} = \frac{\dots}{2+3+4+6} = \frac{360^\circ}{\dots} = 24^\circ$.

Din $\frac{\sphericalangle A}{2} = 24^\circ \Rightarrow \sphericalangle A = 2 \cdot 24^\circ = 48^\circ$

Deci, măsurile unghiurilor patrulaterului sunt: $48^\circ, \dots^\circ, \dots^\circ, \dots^\circ$.

7. Specificați care dintre figurile ce urmează este paralelogram; justificați răspunsul dat.

Demonstrație: $ABCD$, deoarece $AB \parallel CD$ și $MNPQ$, deoarece $MN \parallel PQ$ și

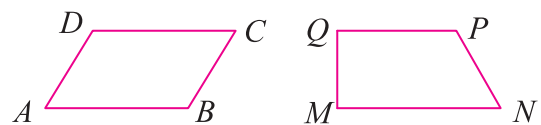


Fig. 6

8. Enunțați proprietățile paralelogramului:

a) Într-un paralelogram, laturile, adică $AB \equiv CD$ și $\dots \equiv \dots$.

b) Într-un paralelogram, unghiurile opuse sunt, adică $\sphericalangle A \equiv \dots$ și $\sphericalangle B \equiv \dots$.

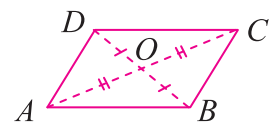


Fig. 7

c) Într-un paralelogram, unghiurile alăturate sunt, adică $\sphericalangle A + \sphericalangle B = \dots^\circ$.

d) Într-un paralelogram, diagonalele, adică $AO \equiv \dots$ și $BO \equiv \dots$.

e) Punctul de intersecție a diagonalelor unui paralelogram este al acestuia, adică $AC \cap BD = \{O\} \Rightarrow O$ este al paralelogramului $ABCD$.

CAPITOLUL I. MULȚIMEA NUMERELOR REALE

I.1. Rădăcina pătrată a pătratului unui număr natural. Estimarea rădăcinii pătrate dintr-un număr rațional

1. a) pătratul; pătrat perfect; b) \sqrt{a} ; este egal cu a . 2. a) $a = p^2$; b) acel număr natural. 3. a) extragerea rădăcinii pătrate; b) numărul în factori primi; $n = p^2 \Leftrightarrow \sqrt{n} = p, n \in \mathbb{N}$. 4. a) stabilirea valorii aproximative a unui obiect, a unui bun; b) a aproxima prin lipsă sau prin adaos la zecimi, sutimi, miimi, ..., în funcție de cerința problemei, rădăcina pătrată a numărului respectiv. 5. a) un calculator; b) pătrat perfect; primele 5 zecimale, adică $\sqrt{2} = 1,41421$. 6. a) $n^2 \in \{0, 1, 4, 49, 121, 144\}$; b) $\sqrt{n^2} \in \{\sqrt{3^2}, \sqrt{4^2}, \sqrt{5^2}, \sqrt{6^2}, \sqrt{8^2}, \sqrt{9^2}, \sqrt{10^2}\} = \{3, 4, 5, 8, 9, 10\}$. 7. a) $121 = 11^2$; $144 = 12^2$; $49 = 7^2$; $169 = 13^2$; b) $\sqrt{121} = 11$; $\sqrt{144} = 12$; $\sqrt{49} = 7$; $\sqrt{169} = 13$. 8. a) $\{0, 1, 4, 5, 6, 9\}$; b) nu este pătrat perfect. 9. a) să fie pătrat perfect sau poate să nu fie pătrat perfect; b) pătrate perfecte; c) pătrate perfecte. 10. a) $\overline{1xy} \in \{10^2, 11^2, 12^2, 13^2, 14^2\} \Rightarrow \overline{1xy} \in \{100, 121, 144, 169, 196\}$; b) $a + b \in \{6, 7\}$, deoarece $\overline{3ab} \in \{324, 361\}$. 11. a) $2 \cdot 3^2 = 18$; $2^3 \cdot 5 = 40$; $5^2 \cdot 7 = 175$; $2^2 \cdot 3 \cdot 5 = 60$; b) 24; 32; 42; 126. 12. a) $0^2 = 0$; $1^2 = 1$; $2^2 = 4$; $3^2 = 9$; $4^2 = 16$; $5^2 = 25$; $6^2 = 36$; $7^2 = 49$; b) $15^2 = 225$; $16^2 = 256$; $17^2 = 289$; $18^2 = 324$; $19^2 = 361$. 13. a) 27; b) 4. 14. a) $\sqrt{169 - 25} = \sqrt{144} = \sqrt{12^2} = 12$ și analog; b) 20; c) 9; d) 5. 15. a) $10^2 = 100$, $11^2 = 121$, $12^2 = 144$; $13^2 = 169$; $14^2 = 196$; $15^2 = 225$; $16^2 = 256$; $17^2 = 289$; $18^2 = 324$; $19^2 = 361$; $20^2 = 400$; $21^2 = 441$; $22^2 = 484$; $23^2 = 529$; $24^2 = 576$; $25^2 = 625$; $26^2 = 676$; $27^2 = 729$; $28^2 = 784$; $29^2 = 841$; $30^2 = 900$; $31^2 = 961$; b) Notând cu $u(x)$ ultima cifră a unui număr x se obțin $u(5n + 2) \in \{7, 2\}$, $u(5n + 3) \in \{8, 3\}$, $u(5n + 7) \in \{2, 7\}$ și $u(5n + 8) \in \{3, 8\}$ și, dacă ultima cifră a unui număr este 2, 3, 7 sau 8, numărul nu este pătrat perfect. 16. a) 4,35; b) 10,53; c) 25,11. 17. a) $25 < 31 < 36 \Leftrightarrow 5 < \sqrt{31} < 6$; b) 5,56; c) 5,568; d) 5,5678. 18. a) 17, 18, 19, ..., 24; b) 2, 3, 4. 19. a) 1,5; 1,6; 1,7; b) 4,15; 4,18; 4,20. 20. card $B = 3$, deoarece $B = \{0, 1, 2\}$. 21. 4. 22. 3. 23. $\frac{5}{7}$; $\frac{4}{9}$; 0,5; $\frac{1}{50}$; $\frac{14}{18}$. 24. b) 8, respectiv 9. 25. $n = 2019 + 2 \cdot \frac{2018 \cdot 2019}{2} \Rightarrow n = 2019 + 2018 \cdot 2019 = 2019 \cdot (1 + 2018) = 2019^2$ și este pătrat perfect.

I.2. Scoaterea factorilor de sub radical. Introducerea factorilor sub radical

1. a) nu se divide prin pătratul niciunui număr prim; b) numere libere de pătrate, deoarece nu se divid prin pătratul niciunui număr prim; c) nu sunt numere libere de pătrate, deoarece se divid prin pătratele numerelor 3, 2, 5, 7 și, respectiv, 11. 2. a) $a\sqrt{b}$ – formula pentru scoaterea factorilor de sub radical; b) a . 3. $\sqrt{112} = \sqrt{2^4 \cdot 7} = 2^2 \sqrt{7} = 4\sqrt{7}$. 4. a) $\sqrt{a^2 b}$; introducere a factorilor sub radical $\sqrt{108}$. 5. a) $28 = 2^2 \cdot 7$; $180 = 2^2 \cdot 3^2 \cdot 5$; $147 = 3 \cdot 7^2$; b) $2\sqrt{7}$, $6\sqrt{5}$ și $7\sqrt{3}$. 6. a) $\sqrt{2^2 \cdot 5} = \sqrt{4 \cdot 5} = \sqrt{20}$; b) $\sqrt{7^2 \cdot 2} = \sqrt{49 \cdot 2} = \sqrt{98}$; c) $\sqrt{3^2 \cdot 7} = \sqrt{9 \cdot 7} = \sqrt{63}$; d) $\sqrt{4^2 \cdot 6} = \sqrt{16 \cdot 6} = \sqrt{96}$. 7. a) $2^2 \cdot 5\sqrt{3} = \sqrt{2^4 \cdot 5^2 \cdot 3} = \sqrt{1200} < \sqrt{1225} = 35$; b) $33 = \sqrt{1089} < \sqrt{1200} = 2^2 \cdot 5\sqrt{3}$. 8. a) $9 = \sqrt{81} < \sqrt{90} < \sqrt{100} = 10$; b) 9, respectiv 10. 9. a) 1; b) 6. 10. a) $\sqrt{25^n \cdot (1 + 25 + 25^2)} = \sqrt{5^{2n} \cdot 651} = 5^n \sqrt{651}$; b) $\sqrt{(2 \cdot 5^2)^n \cdot (2 \cdot 3^2)^{n+1} \cdot (3^2)^n} = \sqrt{2^n \cdot 5^{2n} \cdot 2^n \cdot 2 \cdot 3^{2n} \cdot 3^2 \cdot 3^{2n}} = \sqrt{2^{2n} \cdot 5^{2n} \cdot 2 \cdot 3^{4n+2}} = 2^n \cdot 5^n \cdot 3^{2n+1} \sqrt{2} = 10^n \cdot 3^{2n+1} \sqrt{2}$.

Cuprins

ALGEBRĂ

CAPITOLUL I. MULȚIMEA NUMERELOR REALE.....	5
I.1. Rădăcina pătrată a pătratului unui număr natural. Estimarea rădăcinii pătrate dintr-un număr rațional.....	5
I.2. Scoaterea factorilor de sub radical. Introducerea factorilor sub radical.....	8
I.3. Numere iraționale. Mulțimea numerelor reale. Incluziunile $\mathbb{N} \subset \mathbb{Z} \subset \mathbb{Q} \subset \mathbb{R}$. Modulul unui număr real.....	9
I.4. Operații cu numere reale. Raționalizarea numitorului de forma $a\sqrt{b}$, $a, b \in \mathbb{Q}^*$, b pozitiv.....	14
I.5. Media aritmetică ponderată a n numere reale, $n \geq 2$. Media geometrică a două numere reale pozitive.....	20
I.6. Ecuația de forma $x^2 = a$, unde $a \in \mathbb{R}$	24
CAPITOLUL II. ECUAȚII ȘI SISTEME DE ECUAȚII LINIARE.....	27
II.1. Transformarea unei egalități într-o egalitate echivalentă. Identități. Ecuații de forma $ax + b = 0$, unde $a, b \in \mathbb{R}$	27
II.2. Sisteme de două ecuații liniare cu două necunoscute.....	31
II.3. Probleme care se rezolvă cu ajutorul ecuațiilor sau al sistemelor de ecuații.....	34
CAPITOLUL III. ELEMENTE DE ORGANIZARE A DATELOR.....	39

GEOMETRIE

CAPITOLUL I. PATRULATERUL.....	49
CAPITOLUL II. CERCUL.....	75
CAPITOLUL III. ASEMĂNAREA TRIUNGHIURILOR.....	87
CAPITOLUL IV. RELAȚII METRICE ÎN TRIUNGHIUL DREPTUNGHIIC.....	97

TESTE RECAPITULATIVE.....	110
----------------------------------	------------

SOLUȚII.....	118
---------------------	------------