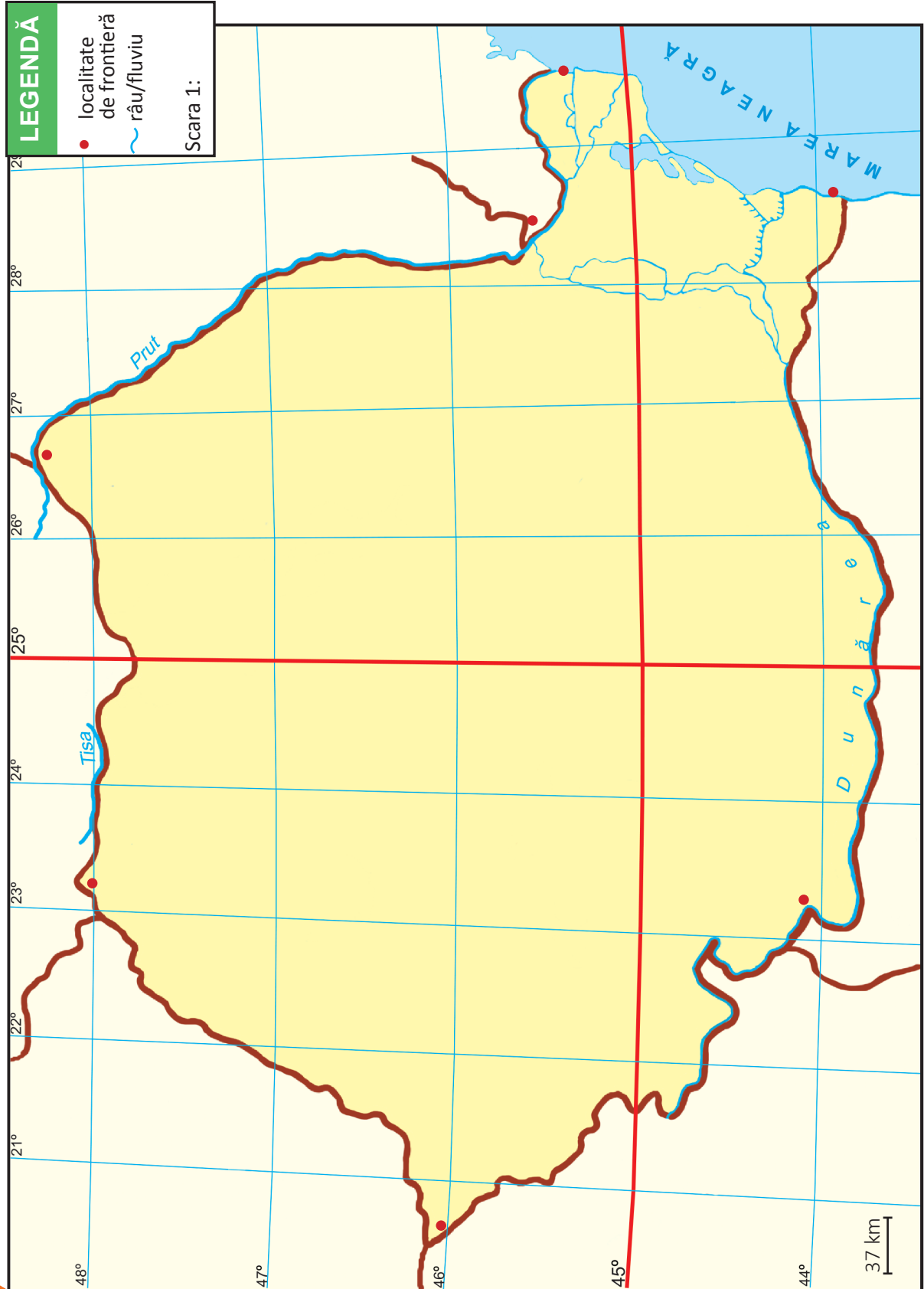




UNITATEA A II-A. ROMÂNIA – ELEMENTE DE GEOGRAFIE GENERALĂ ROMÂNIA – AȘEZARE, LIMITE, VECINI

LUCREZ CU HARTA!



AM ÎNVĂȚAT!

APLIC!

1. Marchează, pe harta alăturată, hotarele României, utilizând ca semne convenționale:



hotar convențional,



hotar natural

- Notează denumirile localităților de graniță indicate pe hartă prin •.
- Scrie denumirile țărilor învecinate României.

2. Completează tabelul.

Țara vecină	Orientare (punct cardinal)	Limitele hotarelor	Tipul hotarelor

3. Marchează, pe harta alăturată, localitatea unde trăiești.

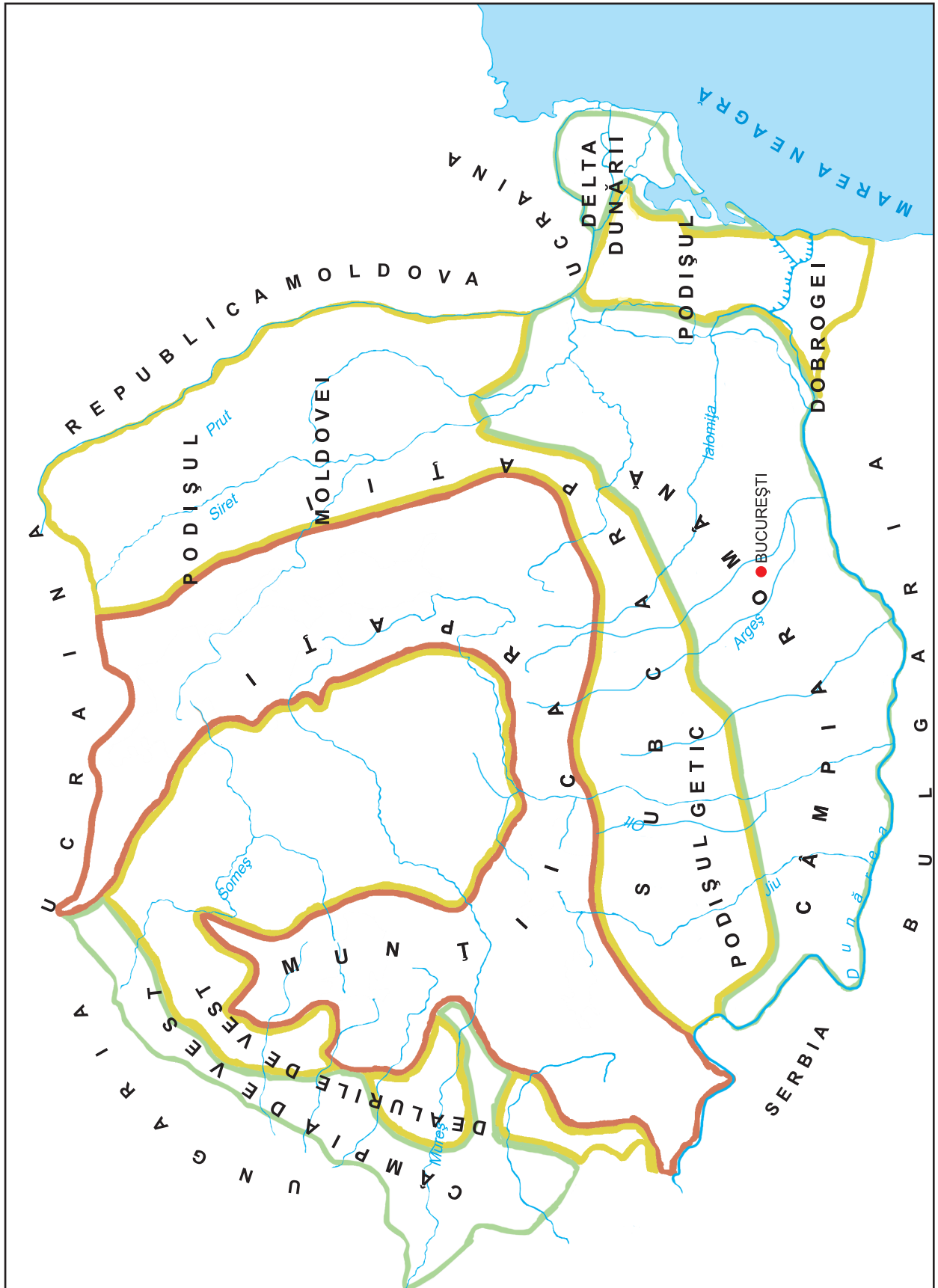
Trasează și măsoară distanțele dintre localitatea ta și localitățile de graniță.

Aproximează distanțele reale, știind că un centimetru pe hartă corespunde la 37 kilometri în realitate.



CARACTERISTICILE GENERALE ALE RELIEFULUI

LUCREZ CU HARTA!



AM ÎNVĂȚAT!

APLIC!

1. Colorează, pe harta alăturată, treptele de relief ale României, folosind culorile convenționale. Localizează și notează numele localității unde trăiești.

2. Precizează treapta și unitatea de relief unde este situată localitatea ta.

3. Grupează marile unități de relief în tabelul dat.

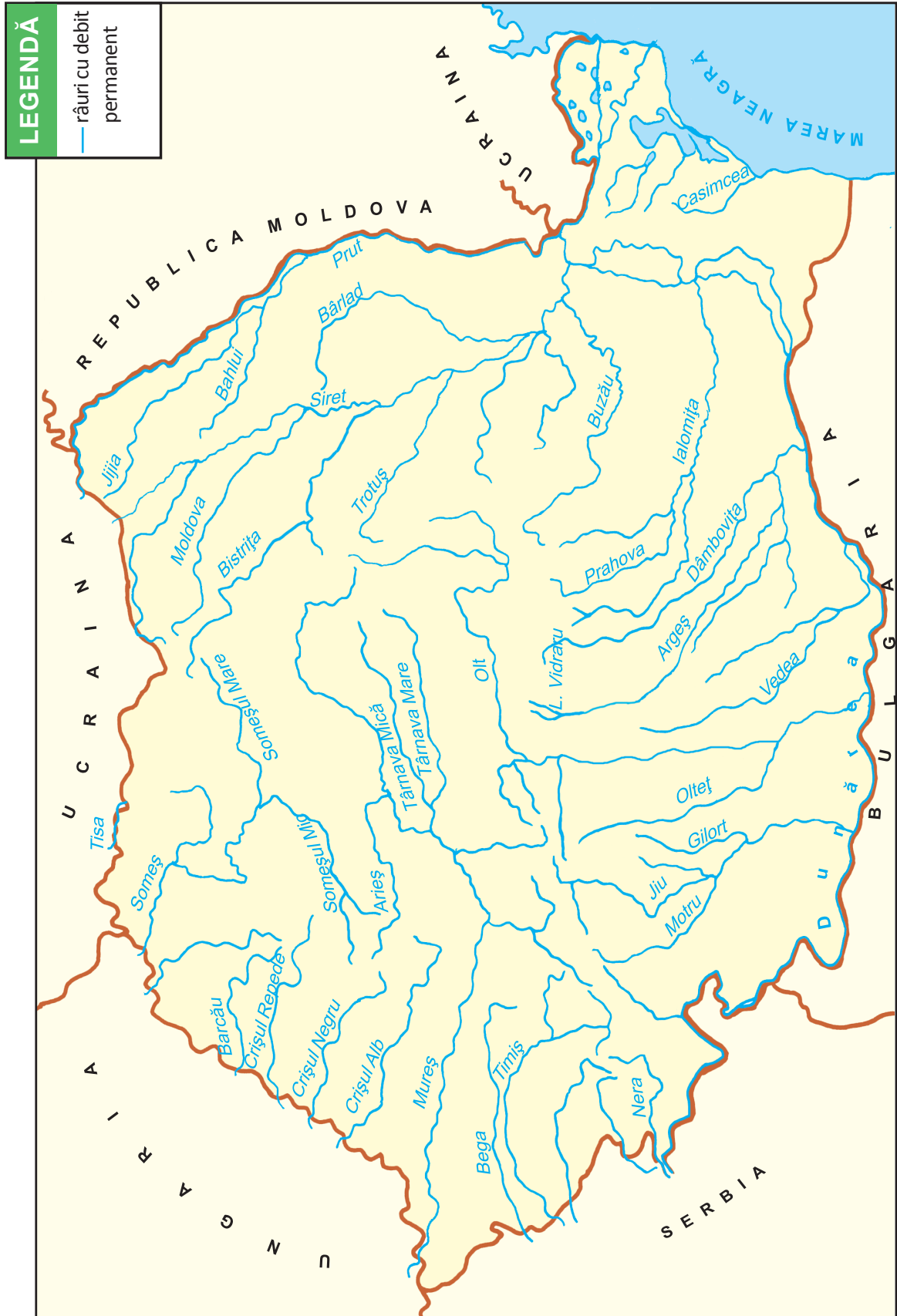
Treapta de relief	Denumiri ale unităților de relief
Munte	
Deal, podiș	
Câmpie	

4. Explică importanța varietății treptelor de relief ale României.



APELE APELE CURGĂTOARE. DUNĂREA

LUCREZ CU HARTA!



AM ÎNVĂȚAT!

APLIC!

1. Trasează, pe harta alăturată, cursul fluviului Dunărea, folosind culoarea convențională.
 - Notează denumirile brațelor și bălților Dunării.

- Marchează, printr-o săgeată roșie, direcția de curgere a fluviului.
- Hașurează, cu verde, Delta Dunării.

2. Completează tabelul cu câte o denumire a unui râu ce aparține fiecărei grupe indicate.

grupa de vest	grupa de sud	grupa de est	grupa dobrogeană

3. Consultă o hartă fizică a Europei dintr-un Atlas Geografic.

Urmărește cursul Dunării de la izvoare până la vărsare.

Notează denumirile:

- capitalelor străbătute: _____
- țărilor străbătute: _____

4. Notează motivele pentru care Delta Dunării a fost declarată Rezervație a Biosferei.
