

CĂTĂLIN-PETRU NICOLESCU

I. V. MAFTEI

D. OROS

MĂDĂLINA-GEORGIA NICOLESCU

GH. CHETA

CRISTINA-PAULA MARIN

PETRE SIMION

ANCA SILVIA NEGULESCU

FLORICA VORNICESCU

PETRU ORBULESCU MATEȘESCU

GEOMETRIE ȘI TRIGONOMETRIE

**exerciții și probleme
pentru elevii claselor de liceu**

**Probleme pregătitoare pentru
EXAMENUL DE BACALAUREAT
și concursul de admitere
în învățământul superior**



CUPRINS

I. GEOMETRIE

Capitolul 1. Elemente de calcul vectorial	3
1.1. Rezultate remarcabile.....	3
1.2. Probleme rezolvate.....	5
1.3. Probleme propuse.....	9
1.4. Indicații – soluții	23
Capitolul 2. Elemente de geometrie analitică	48
2.1. Rezultate remarcabile.....	48
2.2. Probleme rezolvate.....	50
2.3. Probleme propuse.....	56
2.4. Indicații – soluții	65

II. TRIGONOMETRIE

Capitolul 1. Elemente de trigonometrie.....	77
1.1. Unghiuri și arce.....	77
1.2. Funcțiile trigonometrice în triunghiul dreptunghic	77
1.3. Definierea funcțiilor trigonometrice:	
$\sin \alpha, \cos \alpha$ pe $[0, 2\pi]$; $\operatorname{tg} \alpha$ pe $[0, \pi] \setminus \left\{ \frac{\pi}{2} \right\}$; $\operatorname{ctg} \alpha$ pe $(0, \pi)$	83
1.4. Definierea funcțiilor trigonometrice pe domeniul maxim.....	83
1.5. Reducerea la primul cadran	85
1.6. Graficele funcțiilor trigonometrice.....	86
1.7. Formule pentru calcularea valorilor funcțiilor trigonometrice pentru $\cos(x \pm y)$; $\sin(x \pm y)$; $\operatorname{tg}(x \pm y)$; $\operatorname{ctg}(x \pm y)$	104
1.8. Formule pentru calcularea valorilor funcțiilor trigonometrice ale arcului dublu, triplu, arcului pe jumătate.....	107
1.9. Formule pentru transformarea sumei și diferenței a două funcții de același nume în produs.....	113
1.10. Formule pentru transformarea produsului de funcții trigonometrice în sumă algebrică de funcții trigonometrice.....	113
1.11. Identități condiționate.....	123
1.12. Inegalități trigonometrice	126
1.13. Rezolvări la problemele propuse.....	128
Capitolul 2. Ecuații, inecuații și sisteme de ecuații trigonometrice	153
2.1. Ecuații trigonometrice.....	153
2.2. Inecuații trigonometrice	174
2.3. Sisteme de ecuații trigonometrice	184

Capitolul 3. Numere complexe	197
3.1.A. Forma algebrică a unui număr complex	197
3.1.B. Forma trigonometrică a unui număr complex	197
3.2. Operații cu numere complexe scrise sub formă trigonometrică	198
3.3. Aplicații ale numerelor complexe în geometrie	198
3.4. Indicații – soluții	208
Capitolul 4. Probleme date la concursurile de admitere în învățământul superior și concursurile școlare	212
4.1. Enunțuri	212
4.2. Indicații – soluții	221
Capitolul 5. Teste de verificare	234
5.1. Elemente de trigonometrie	234
5.2. Ecuații și sisteme de ecuații trigonometrice	243
5.3. Numere complexe	244
5.4. Indicații – soluții	247
Capitolul 6. Aplicații ale trigonometriei	255
6.1. Rezultate remarcabile	255
6.2. Probleme rezolvate	257
6.3. Probleme propuse	259
6.4. Indicații – soluții	272
III. ANALIZĂ MATEMATICĂ	290
Capitolul 1. Probleme de analiză matematică cu conținut trigonometric	290
Șiruri de numere reale	290
Limite de funcții. Funcții continue	291
Funcții derivabile	294
Integrala nedefinită	298
Integrala definită	300
Indicații și răspunsuri	304
Șiruri de numere reale	304
Limite de funcții. Funcții continue	306
Funcții derivabile	311
Integrala nedefinită	330
Integrala definită	336
Capitolul 2. Probleme pregătitoare pentru examenul de bacalaureat	342
Indicații și răspunsuri	350

I. GEOMETRIE

ELEMENTE DE CALCUL VECTORIAL

CAPITOLUL

1

1.1. REZULTATE REMARCABILE

\mathcal{F} – mulțimea vectorilor (liberi) din plan.

Fiecare vector nenul $\vec{v} \in \mathcal{F}$ este caracterizat prin:

– direcție

– sens

– lungime – notație $|\vec{v}| \in (0, +\infty)$.

$\vec{0}$ – vectorul nul; $-\vec{v}$ – opusul lui \vec{v} .

Adunarea vectorilor – proprietăți

1. $\vec{v}_1 + (\vec{v}_2 + \vec{v}_3) = (\vec{v}_1 + \vec{v}_2) + \vec{v}_3, \forall \vec{v}_1, \vec{v}_2, \vec{v}_3 \in \mathcal{F}$

2. $\vec{v}_1 + \vec{v}_2 = \vec{v}_2 + \vec{v}_1, \forall \vec{v}_1, \vec{v}_2 \in \mathcal{F}$

3. $\vec{v} + \vec{0} = \vec{v}, \forall \vec{v} \in \mathcal{F}$ (fig. 1 a).

$$\vec{v}_1 - \vec{v}_2 = \vec{v}_1 + (-\vec{v}_2)$$

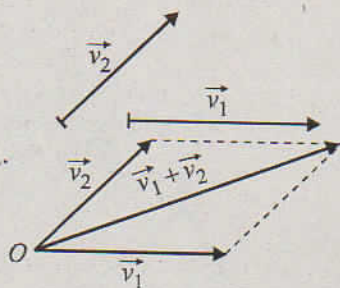


Fig. 1 a

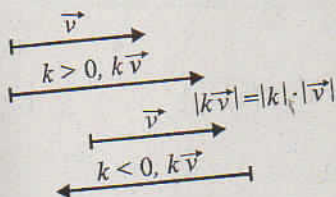


Fig. 1 b

Înmulțirea unui vector cu un număr real (scalar) – proprietăți

1. $1 \cdot \vec{v} = \vec{v}, \forall \vec{v} \in \mathcal{F}$

2. $\alpha(\vec{v}_1 + \vec{v}_2) = \alpha\vec{v}_1 + \alpha\vec{v}_2, \forall \vec{v}_1, \vec{v}_2 \in \mathcal{F}, \forall \alpha \in \mathbb{R}$

3. $(\alpha + \beta)\vec{v} = \alpha\vec{v} + \beta\vec{v}, \forall \vec{v} \in \mathcal{F}, \forall \alpha, \beta \in \mathbb{R}$

4. $\alpha(\beta\vec{v}) = (\alpha\beta)\vec{v}, \forall \vec{v} \in \mathcal{F}, \forall \alpha, \beta \in \mathbb{R}$ (fig. 1 b).

Produsul scalar

$$\vec{v}_1 \cdot \vec{v}_2 = \begin{cases} |\vec{v}_1| \cdot |\vec{v}_2| \cos \alpha, & \text{dacă } \vec{v}_1 \neq \vec{0} \text{ și } \vec{v}_2 \neq \vec{0} \\ 0 & \text{, dacă } \vec{v}_1 = \vec{0} \text{ sau } \vec{v}_2 = \vec{0} \end{cases}$$

În cazul (i) avem $k = \frac{2}{3}$ și $\overrightarrow{OM} = \frac{1}{5}(3\overrightarrow{OA} + 2\overrightarrow{OB})$.

În cazul (ii) avem $k_1 = -\frac{2}{7}$ și $\overrightarrow{OM}_1 = \frac{1}{5}(7\overrightarrow{OA} - 2\overrightarrow{OB})$.

În cazul (iii) avem $k_2 = -\frac{9}{4}$ și $\overrightarrow{OM}_2 = \frac{1}{5}(9\overrightarrow{OB} - 4\overrightarrow{OA})$ (fig. 4).

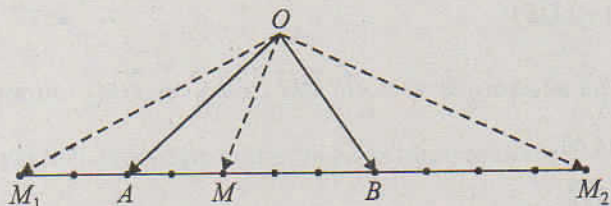


Fig. 4

2. Într-un triunghi ABC se cunosc $AB = 3a$, $AC = 6a$ și $m(\hat{A}) = 120^\circ$. Pe latura $[BC]$ se iau punctele D, E, F, G astfel încât $BD = DE = EF = FG = GC$. Să se calculeze lungimea vectorului $\vec{v} = \overrightarrow{AD} + \overrightarrow{AE} + \overrightarrow{AF} + \overrightarrow{AG}$.

Rezolvare

Calculăm mai întâi BC aplicând teorema cosinului în triunghiul ABC (fig. 5).

$$BC^2 = AB^2 + AC^2 - 2AB \cdot AC \cdot \cos 120^\circ,$$

$$BC^2 = 9a^2 + 36a^2 - 2 \cdot 3a \cdot 6a \left(-\frac{1}{2}\right) = 63a^2.$$

Rezultă $BC = 3\sqrt{7}a$. Calculăm lungimea medianei $[AM]$.

$$AB^2 + AC^2 = 2AM^2 + \frac{BC^2}{2} \Rightarrow 2AM^2 = 9a^2 + 36a^2 - \frac{63}{2}a^2.$$

$$4AM^2 = 27a^2 \Rightarrow AM = \frac{3\sqrt{3}a}{2}. \text{ Avem } BD = DE = EF = FG = GC.$$

Observăm că $MD = MG$ și $ME = MF$.

$$\overrightarrow{AE} + \overrightarrow{AF} = \overrightarrow{AP} = 2\overrightarrow{AM} \text{ și } \overrightarrow{AD} + \overrightarrow{AG} = 2\overrightarrow{AM}$$

$$\vec{v} = \overrightarrow{AD} + \overrightarrow{AE} + \overrightarrow{AF} + \overrightarrow{AG} = 4\overrightarrow{AM}.$$

$$\text{Deducem } |\vec{v}| = 4 \cdot \frac{3\sqrt{3}}{2}a = 6a\sqrt{3}.$$

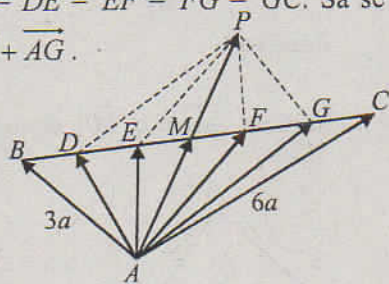


Fig. 5

3. Se consideră patrulaterul convex $ABCD$. Punctele E și F sunt mijloacele laturilor $[AD]$ și $[BC]$, iar punctele M și N sunt mijloacele diagonalelor $[BD]$ și $[AC]$.

Să se demonstreze că au loc următoarele egalități vectoriale:

$$i) \overrightarrow{EF} = \frac{1}{2}(\overrightarrow{AB} + \overrightarrow{DC});$$

$$ii) \overrightarrow{MN} = \frac{1}{2}(\overrightarrow{BC} - \overrightarrow{AD}) = \frac{1}{2}(\overrightarrow{DC} - \overrightarrow{AB}).$$

Rezolvare

i) În patrulaterelor $EABF$ și $EDCF$ (fig. 6) au loc egalitățile vectoriale

$$\begin{cases} \overrightarrow{EF} = \overrightarrow{EA} + \overrightarrow{AB} + \overrightarrow{BF} \\ \overrightarrow{EF} = \overrightarrow{ED} + \overrightarrow{DC} + \overrightarrow{CF} \end{cases} \text{ pe care le adunăm.}$$

$$\text{Întrucât } \begin{cases} \overrightarrow{EA} + \overrightarrow{ED} = \vec{0} \\ \overrightarrow{BF} + \overrightarrow{FC} = \vec{0} \end{cases}, \text{ rezultă } \overrightarrow{EF} = \frac{1}{2}(\overrightarrow{AB} + \overrightarrow{DC}).$$

$$ii) \text{ Avem } \overrightarrow{AM} = \frac{1}{2}(\overrightarrow{AB} + \overrightarrow{AD}), \overrightarrow{BN} = \frac{1}{2}(\overrightarrow{BA} + \overrightarrow{BC}) \text{ și } \overrightarrow{MN} = \overrightarrow{MA} + \overrightarrow{AB} + \overrightarrow{BN}.$$

$$\text{Rezultă } \overrightarrow{MN} = -\frac{1}{2}(\overrightarrow{AB} + \overrightarrow{AD}) + \overrightarrow{AB} + \frac{1}{2}(\overrightarrow{BA} + \overrightarrow{BC}) = \frac{1}{2}(\overrightarrow{BC} - \overrightarrow{AD}).$$

Observăm că $\overrightarrow{DA} + \overrightarrow{AB} = \overrightarrow{DC} + \overrightarrow{CB} = \overrightarrow{DB}$. Din prima egalitate deducem $\overrightarrow{BC} - \overrightarrow{AD} = \overrightarrow{DC} - \overrightarrow{AB}$, prin urmare

$$\overrightarrow{MN} = \frac{1}{2}(\overrightarrow{DC} - \overrightarrow{AB}).$$

4. Se cunosc $|\vec{u}| = u \neq 0$, $|\vec{v}| = v \neq 0$ și $\vec{u} \cdot \vec{v} = k$. Să se calculeze $|a\vec{u} + b\vec{v}|$, a și b fiind numere reale date.

Aplicație: $u = 3$, $v = 5$, $a = 5$, $b = 8$, $k = 20$.

Rezolvare

$$\text{Notăm } \vec{w} = a\vec{u} + b\vec{v} \text{ și avem } |\vec{w}|^2 = \vec{w} \cdot \vec{w} = (a\vec{u} + b\vec{v}) \cdot (a\vec{u} + b\vec{v}) = a^2|\vec{u}|^2 + b^2|\vec{v}|^2 + 2ab\vec{u} \cdot \vec{v} = a^2u^2 + b^2v^2 + 2abk. \text{ Așadar } |\vec{w}| = \sqrt{a^2u^2 + b^2v^2 + 2abk}.$$

În cazul particular menționat în enunț rezultă

$$|\vec{w}| = \sqrt{25 \cdot 9 + 64 \cdot 25 + 2 \cdot 5 \cdot 8 \cdot 20} = 5\sqrt{137}.$$

5. Fiind date în plan punctele P, A, B, C să se arate că are loc egalitatea:

$$\overrightarrow{PA} \cdot \overrightarrow{BC} + \overrightarrow{PB} \cdot \overrightarrow{CA} + \overrightarrow{PC} \cdot \overrightarrow{AB} = 0. \quad (*)$$

Folosind acest rezultat să se stabilească concurența înălțimilor într-un triunghi.

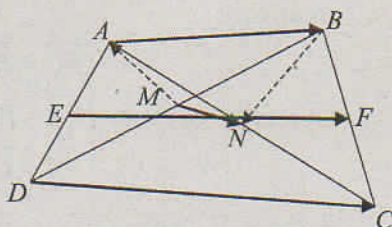


Fig. 6

Rezolvare

$$\text{Observăm că avem } \begin{cases} \overrightarrow{BC} = \overrightarrow{PC} - \overrightarrow{PB} \\ \overrightarrow{CA} = \overrightarrow{PA} - \overrightarrow{PC} \\ \overrightarrow{AB} = \overrightarrow{PB} - \overrightarrow{PA} \end{cases}$$

$$\text{Rezultă } \overrightarrow{PA} \cdot (\overrightarrow{PC} - \overrightarrow{PB}) + \overrightarrow{PB} \cdot (\overrightarrow{PA} - \overrightarrow{PC}) + \overrightarrow{PC} \cdot (\overrightarrow{PB} - \overrightarrow{PA}) = 0.$$

Dacă punctul P este intersecția înălțimilor din B și C în triunghiul ABC , avem $PB \perp CA$, $PC \perp AB$, prin urmare au loc egalitățile $\overrightarrow{PB} \cdot \overrightarrow{CA} = 0$ și $\overrightarrow{PC} \cdot \overrightarrow{AB} = 0$.

Ținem seama de aceste rezultate în egalitatea (*) și deducem că $\overrightarrow{PA} \cdot \overrightarrow{BC} = 0$, așadar $PA \perp BC$.

Am stabilit în acest mod că înălțimile triunghiului sunt concurente în punctul P (ortocentrul triunghiului).

6. i) Se dau vectorii $\vec{v}_1 = 3\vec{i} + \vec{j}$, $\vec{v}_2 = -2\vec{i} + 4\vec{j}$ și $\vec{v} = 5\vec{i} + 11\vec{j}$. Știind că $|\vec{i}| = |\vec{j}| = 1$ și $\vec{i} \cdot \vec{j} = 0$, să se determine numerele reale α și β astfel încât $\vec{v} = \alpha\vec{v}_1 + \beta\vec{v}_2$.

ii) Să se determine $\lambda \in \mathbb{R}$ știind că vectorii $\vec{v}_1 + \vec{v}_2$ și $\vec{u} = 3\lambda\vec{i} + 2(1 - \lambda)\vec{j}$ sunt ortogonali.

Rezolvare

$$\text{i) } \alpha(3\vec{i} + \vec{j}) + \beta(-2\vec{i} + 4\vec{j}) = 5\vec{i} + 11\vec{j} \Leftrightarrow (3\alpha - 2\beta)\vec{i} + (\alpha + 4\beta)\vec{j} = 5\vec{i} + 11\vec{j}.$$

Din exprimarea unică a unui vector \vec{v} cu ajutorul vectorilor bazei (\vec{i}, \vec{j}) ,

$$\text{rezultă sistemul de ecuații } \begin{cases} 3\alpha - 2\beta = 5 \\ \alpha + 4\beta = 11 \end{cases} \text{ care admite soluția } \begin{cases} \alpha = 3 \\ \beta = 2 \end{cases}.$$

ii) $\vec{v}_1 + \vec{v}_2 = \vec{i} + 5\vec{j}$. Condiția de ortogonalitate este $\vec{u} \cdot (\vec{v}_1 + \vec{v}_2) = 0$. Rezultă ecuația $3\lambda \cdot 1 + 2(1 - \lambda)5 = 0$, care admite soluția $\lambda = \frac{10}{7}$.

7. În raport cu reperul (O, \vec{i}, \vec{j}) se consideră punctele $A(-1, 2)$, $B(0, -1)$, $C(5, 0)$, $D(2, 4)$.

i) Să se precizeze coordonatele vectorilor \overrightarrow{CA} și \overrightarrow{BD} .

ii) Să se calculeze $\cos(\overrightarrow{CA}, \overrightarrow{BD})$.

iii) Să se calculeze aria patrulaterului $ABCD$.

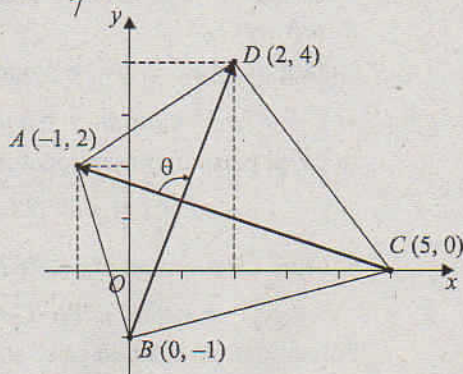


Fig. 7

Rezolvare

$$i) \overrightarrow{CA} = (-1-5)\vec{i} + (2-0)\vec{j} = -6\vec{i} + 2\vec{j} \text{ (fig. 7),}$$

$$\overrightarrow{BD} = (2-0)\vec{i} + (4+1)\vec{j} = 2\vec{i} + 5\vec{j}.$$

$$ii) CA = |\overrightarrow{CA}| = \sqrt{36+4} = 2\sqrt{10},$$

$$BD = |\overrightarrow{BD}| = \sqrt{4+25} = \sqrt{29}.$$

$$\overrightarrow{CA} \cdot \overrightarrow{BD} = (-6) \cdot 2 + 2 \cdot 5 = -2. \text{ Fie } \theta = m(\overrightarrow{CA}, \overrightarrow{BD}),$$

$$\cos \theta = \frac{\overrightarrow{CA} \cdot \overrightarrow{BD}}{CA \cdot BD} = \frac{-2}{2\sqrt{10} \cdot \sqrt{29}} = -\frac{1}{\sqrt{290}}.$$

$$iii) \sin \theta = \sqrt{1 - \cos^2 \theta} = \frac{17}{\sqrt{290}}; S_{ABCD} = \frac{1}{2} AC \cdot BD \cdot \sin \theta = 17.$$

1.3. PROBLEME PROPUSE

1. Fiind dat triunghiul ABC să se arate că există un punct O astfel încât pentru orice punct M din plan să aibă loc egalitatea $\overrightarrow{CO} = \overrightarrow{MA} + \overrightarrow{MB} - 2 \cdot \overrightarrow{MC}$.

2. Să se arate că mijloacele laturilor unui patrulater sunt vârfurile unui paralelogram.

3. Se consideră punctele A, B și C necoliniare, punctele D și E astfel încât $\overrightarrow{AD} = \overrightarrow{EA} = \overrightarrow{BC}$, iar $\{O\} = BD \cap CE$.

a) Să se exprime vectorii \overrightarrow{BD} , \overrightarrow{CE} și \overrightarrow{AO} în funcție de \overrightarrow{AB} și \overrightarrow{AC} .

b) Să se arate că $[AO]$ este mediană în triunghiul ABC .

4. Se consideră un patrulater convex $ABCD$ și se notează cu M, N, P, Q centrele de greutate ale triunghiurilor BCD, ACD, ABD, ABC . Să se arate că patrulaterul $ABCD$ și $MNPQ$ sunt asemenea.

5. În trapezul $ABCD$ lungimea bazei $[AB]$ este de k ori mai mare decât lungimea bazei $[CD]$, $k \in \mathbb{R}_+^*$, M fiind un punct oarecare în planul trapezului. Să se exprime vectorul \overrightarrow{AM} în funcție de vectorii \overrightarrow{MD} și \overrightarrow{MC} .

6. Punctele M_1 și M_2 determină pe segmentul $[AB]$ trei segmente congruente. O fiind un punct oarecare din plan să se exprime vectorii $\overrightarrow{OM_1}$ și $\overrightarrow{OM_2}$ în funcție de vectorii \overrightarrow{OA} și \overrightarrow{OB} .

7. Latura $[BC]$ a triunghiului ABC este împărțită de punctele B_1, B_2, B_3 și B_4 , în cinci segmente congruente. Se notează $\overrightarrow{AB} = \vec{c}$ și $\overrightarrow{BC} = \vec{a}$.

a) Să se exprime vectorii $\overrightarrow{AB_1}$, $\overrightarrow{AB_2}$, $\overrightarrow{AB_3}$ și $\overrightarrow{AB_4}$ în funcție de vectorii \vec{a} și \vec{c} .

b) Dacă $m(\widehat{ABC}) = 90^\circ$, $|\vec{a}| = 24$, $|\vec{c}| = 5$ și $\vec{v} = \overrightarrow{AB} + \overrightarrow{AB_1} + \overrightarrow{AB_2} + \overrightarrow{AB_3} + \overrightarrow{AB_4} + \overrightarrow{AC}$ să se calculeze $|\vec{v}|$.

8. Pe dreptele AB , BC și CA se iau respectiv punctele A_1 , B_1 și C_1 astfel încât $\overline{AA_1} = \lambda \cdot \overline{AB}$, $\overline{BB_1} = \lambda \cdot \overline{BC}$, $\overline{CC_1} = \lambda \cdot \overline{CA}$ unde $\lambda > 0$. Să se arate că triunghiurile ABC și $A_1B_1C_1$ au același centru de greutate.

9. Fie $ABCDEF$ un hexagon, M , N și P respectiv mijloacele laturilor $[AB]$, $[CD]$ și $[EF]$, iar Q , R și S respectiv mijloacele laturilor $[BC]$, $[DE]$ și $[FA]$. Să se demonstreze că triunghiurile MNP și QRS au același centru de greutate.

10. Se consideră patrulaterul convex $ABCD$. Să se arate că dreapta determinată de centrele de greutate ale triunghiurilor BCD și ACD este paralelă cu AB .

11. Fie $ABCD$ un patrulater convex și M un punct oarecare. Să se arate că simetricele lui M în raport cu mijloacele laturilor patrulaterului sunt vârfurile unui paralelogram.

12. Să se determine natura triunghiului ABC dacă $a \cdot \overline{GA} + b \cdot \overline{GB} + c \cdot \overline{GC} = \vec{0}$, unde G este centrul de greutate al triunghiului și $BC = a$, $CA = b$, $AB = c$.

13. Fie A și B două puncte distincte. Să se arate că:

a) dacă un punct C este pe dreapta AB , atunci pentru orice punct M din plan există $t \in \mathbb{R}$ astfel încât $\overline{MC} = t \cdot \overline{MA} + (1-t) \cdot \overline{MB}$;

b) dacă pentru două puncte distincte C și M există $t \in \mathbb{R}$ pentru care $\overline{MC} = t \cdot \overline{MA} + (1-t) \cdot \overline{MB}$, atunci punctul C este pe dreapta AB .

14. În patrulaterul convex $ABCD$ se notează cu O punctul de intersecție al diagonalelor și $\lambda = \frac{OC}{OA}$, $\mu = \frac{OD}{OB}$. Să se exprime vectorii \overline{AB} , \overline{BC} , \overline{CD} și \overline{DA} în funcție de vectorii \overline{OA} și \overline{OB} .

15. Fie $ABCD$ un patrulater și punctele M , N situate respectiv pe segmentele $[BC]$ și $[AD]$ astfel încât $\frac{BM}{BC} = \frac{AN}{AD}$. Să se arate că mijloacele segmentelor $[AB]$, $[MN]$ și $[CD]$ sunt coliniare.

16. Dintr-un punct E al laturii $[AB]$ al patrulaterului convex $ABCD$ se duc paralele EF și EG respectiv la AC și AD , $F \in BC$, $G \in BD$. Să se arate că $FG \parallel CD$.

17. Fie A , B , C trei puncte necoliniare. Să se arate că pentru orice punct M situat în interiorul triunghiului ABC există numerele reale pozitive x , y , z care verifică relația $x + y + z = 1$ astfel încât pentru orice punct O , are loc $\overline{OM} = x \cdot \overline{OA} + y \cdot \overline{OB} + z \cdot \overline{OC}$.

18. În paralelogramul $ABCD$ fie E mijlocul laturii $[AB]$ și $\{F\} = AC \cap DE$. Să se arate că $\overline{AF} = \frac{1}{3} \cdot \overline{AC}$.

19. În paralelogramul $ABCD$ fie E un punct pe latura $[AB]$ astfel încât $\overline{AE} = k \cdot \overline{AB}$, $0 < k < 1$ și $\{F\} = AC \cap DE$. Să se exprime \overline{AF} cu ajutorul lui \overline{AC} .