



# MATEMATICĂ ȘI EXPLORAREA MEDIULUI

Anca Veronica Tăut

caiet de  
**aplicații**

clasa

**P**

PREGĂTITOARE

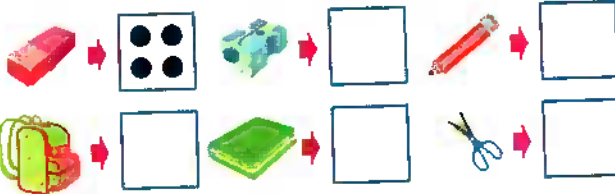
SINAPSIS®




# Ce am în ghiozdan?

Sortarea și clasificarea obiectelor după criterii date


1 Numără obiectele și desenează tot atâtea buline câte obiecte ai găsit.



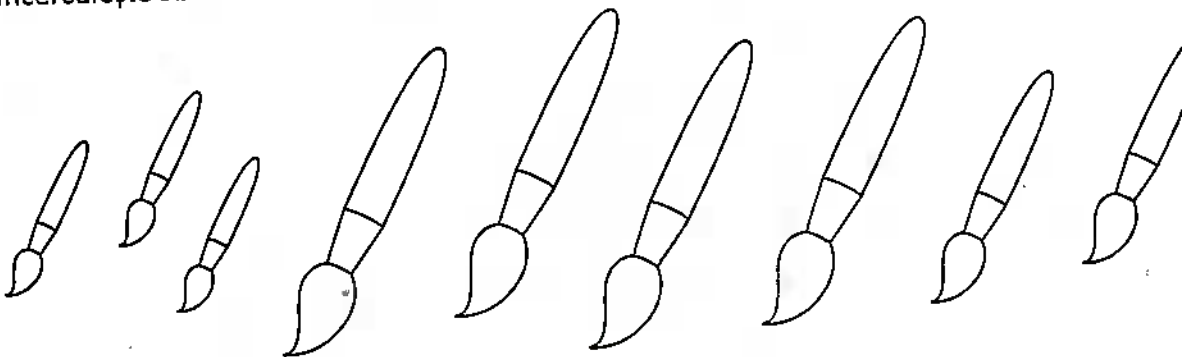
2 Ce obiecte ai găsit în ghiozdanul tău? Numără-le și desenează-le.



3 Formează mulțimi cu obiecte de același fel.



4 Încercuiește obiectele care au aceeași mărime. Colorează-le pe cele mai mari.



5 Desenează:

- un liniar mai lung;
- un creion mai scurt;

- un glob pământesc mai scund;
- un stilou mai gros.

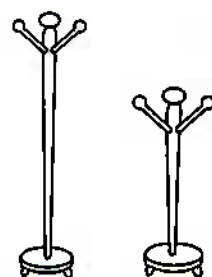
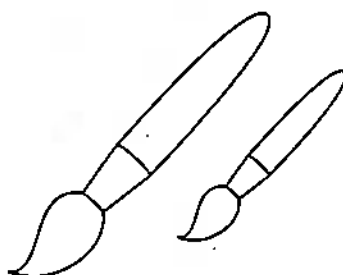
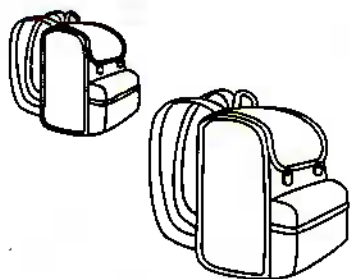


6 Colorează obiectul:

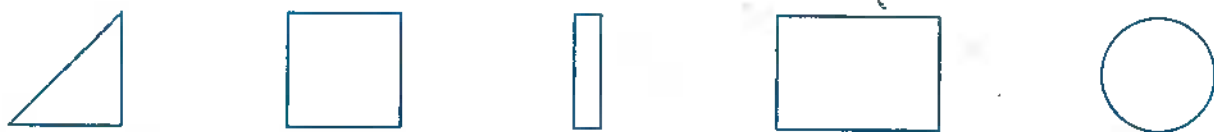
a) cel mai mic;

b) cel mai lung;


c) cel mai înalt.



7 Unește cu o linie obiectele cu forma pe care o au.



8 Desenează obiectele pentru a continua șirul.




# Cu ce circulăm?

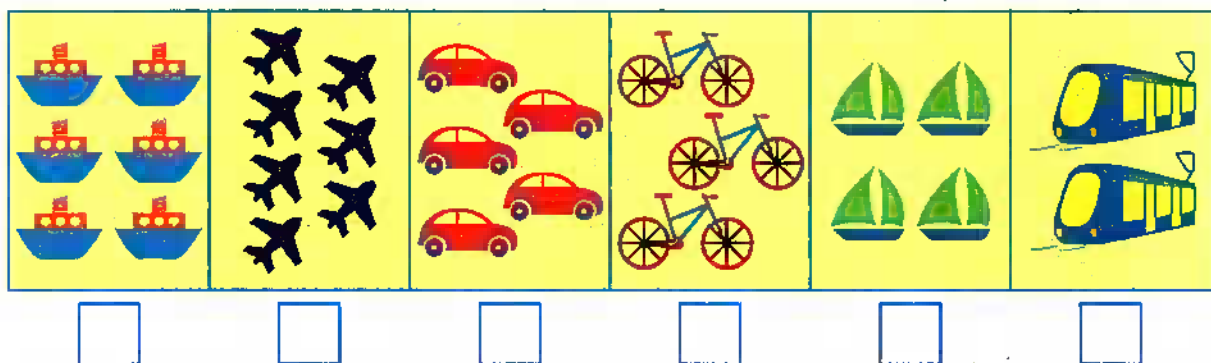
## Numărul și cifra 7



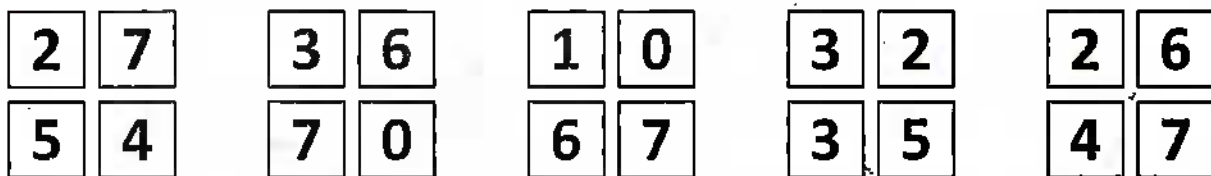
1 Colorează atâtea elemente câte arată numărul.



2 Scrie numărul corespunzător fiecărei mulțimi de elemente.




3 Colorează caseta numărului mai mare din grupurile de numere date.



4 Colorează cifra 7.




5 Scrie cifra 7 după contur.





6 Ai recunoscut cifrele? Conturează-le!



7 Trasează după contur.

SAPTE  
SEVEN

8 Decorează cifra 7.



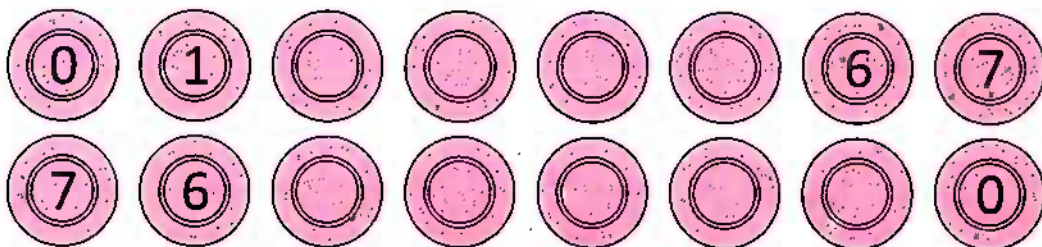
9 Observă mașinile din parcare. Scrie în casetă numărul care se află între celelalte două.



10 Continuă șirul.

0	1	2	3	4	5	6	7	0							
7	6	5	4	3	2	1	0								
7	1	1	7	2	2	7	3								

11 Completează șirurile cu numerele care lipsesc.




# Ursulețul Koala

## Unități de măsură pentru valoare. Leul

1 Care dintre personaje are cea mai mare sumă de bani? Colorează caseta potrivită.

KOALA





LEO




BOBO




2 La magazinul din pădure e aglomerație mare! Observă ce a cumpărat fiecare animal. Câți lei a cheltuit fiecare? Notează în casete.

<input type="checkbox"/>	<input type="checkbox"/>	<input type="checkbox"/>	<input type="checkbox"/>	<input type="checkbox"/>

3 Koala vrea să cumpere de la magazinul din pădure un eucalipt. El are 10 lei. Câți lei îi mai rămân? Observă prețul de pe etichetă.

A 1 Leu

B 1 Leu

C 5 Leu

